



UNIVERSIDADE MUNICIPAL DE SÃO CAETANO DO SUL – USCS

CONCURSO PÚBLICO

EDITAL 02/2013

Cód. 03 – Técnico de Pesquisa Jr.

Como ser o melhor do mundo na sua área

Se você quer o sucesso, você precisa ser o melhor do mundo no que faz. Se você não acha que vale a pena o esforço para ser o melhor do mundo em algo, o melhor a fazer é desistir e direcionar os esforços para algo em que você possa ser o melhor do mundo.

Ou você é o melhor do mundo ou será esquecido.

Na vida, todos nós fazemos escolhas o tempo todo. Se você pode escolher entre o melhor do mundo ou o segundo melhor, por que escolher o segundo?

Não é à toa que quando um filme se torna o mais assistido, mais pessoas o assistem. Quanto mais rico alguém é, mais fácil é ganhar dinheiro. E por aí vai.

Escolha para quem você será o melhor do mundo.

Ser o melhor do mundo significa ser a escolha óbvia na hora de alguém o contratar, comprar seu serviço, ser seu amigo, ler seu artigo, etc. Entre fazer qualquer outra coisa, a pessoa escolheu dedicar o tempo dela a você, justamente por você ser o melhor do mundo para ela, naquele momento.

Obviamente, não é possível ser o melhor do mundo para todos e em todos os aspectos, por isso você precisa escolher muito bem seu público-alvo. Querer agradar a todos é o caminho certo para a mediocridade.

Ser o melhor do mundo não é para qualquer um, só para o melhor do mundo.

Quando você está começando uma nova atividade, tudo é muito bacana. Os resultados começam a vir rápido e a empolgação “come solta”. Depois de um tempo, barreiras aparecem, a atividade começa a ficar chata e os resultados não vêm com a mesma facilidade. Acabou-se o que era doce.

É nesse momento que a maioria das pessoas desiste. Esse é o chamado vazio.

A grande questão é que para ser o melhor do mundo, você precisa atravessar o vazio. Poucas são as pessoas que continuam trabalhando apesar da monotonia, cansaço e desmotivação. Poucas são as pessoas que colhem os verdadeiros frutos de ser o melhor do mundo.

Faça ou desista, não existe tentar.

Não há problema algum em desistir, desde que libere recursos para torná-lo o melhor do mundo em outra coisa.

A mediocridade é uma adversária poderosíssima, você precisa ter foco total para enfrentá-la. Por isso, o melhor a fazer é escolher onde você quer ser o melhor do mundo e desistir do resto.

Para finalizar: lembre-se que nosso desafio diário não é ser melhor que os outros, é ser melhor do que nós mesmos.

Millôr Machado

1. De acordo com o título do texto lido: “*Como ser o melhor do mundo na sua área*” você precisa:

- ser o melhor em tudo que faz.
- não gastar muitos esforços porque não vale a pena.
- conduzir seus esforços para as coisas que lhe trazem prazer.
- selecionar alguém para mostrar o que faz.
- ter certeza que será escolhido.

Estão corretos:

- A) três itens, apenas.
- B) dois itens, apenas.
- C) os cinco itens.
- D) quatro itens, apenas.

2. “Ser o melhor do mundo não é para qualquer um, só para o melhor do mundo.”, por isso para avaliar se a sua ideia vale a pena:
- I- Converse com pessoas que não têm a obrigação de gostar de você e veja se elas estão dispostas a pagar pelo que você está oferecendo.
 - II- Não desanime, confie nos seus passos e siga em frente, mas se acha que não conseguirá, desista.
 - III- O risco sempre existiu e sempre existirá. Se você falhar não significa que você está fadado ao fracasso, muitos que faliram aprenderam com os erros e voltaram com força total, venceram-se. Errar, não o destrói para sempre, desde que você acerte em algum momento.
- Assinale a resposta correta.
- A) Apenas os itens I e II estão corretos.
 - B) Os itens I, II e III estão corretos.
 - C) Apenas os itens I e III estão corretos.
 - D) Apenas os itens II e III estão corretos.
3. Em cada frase retirada do texto foi destacada uma palavra e nos parênteses o sinônimo respectivo. Assinale a alternativa que apresenta sinônimo incorreto.
- A) “Ser o melhor do mundo significa ser a escolha óbvia na hora de alguém o contratar, ...”(clara)
 - B) “Esse é o chamado vãõ.” (verbo ir)
 - C) “Os resultados começam a vir rápido e a empolgação ‘come solta’.” (animação)
 - D) “A mediocridade é uma adversária poderosíssima, ...” (insignificância)
4. Relacione os blocos abaixo.
- a- Palavras antônimas
 - b- Palavras homônimas
 - c- Palavras parônimas
- () escolhas(substantivo)/escolhas(verbo)
 - () ratificar/retificar
 - () chata/interessante
- Assinale a alternativa que contém a sequência correta, de cima para baixo.
- A) a – b – c.
 - B) a – c – b.
 - C) b – c – a.
 - D) c – a – b.
5. Assinale a alternativa que não apresenta palavras acentuadas pela mesma regra de acentuação.
- A) aí – só – vêm.
 - B) área – fácil – diário.
 - C) você – será – alguém.
 - D) rápido – poderosíssima – público.
6. Escreve-se como “desistir”:
- A) flor__inha.
 - B) e__ame.
 - C) empe__ilho.
 - D) avi__o.
7. Apresenta divisão silábica incorreta a alternativa:
- A) ó-bvi-a.
 - B) as-pec-to.
 - C) em-pol-ga-ção.
 - D) a-tra-ves-sar.

8. Assinale a alternativa que contém a pontuação correta para as frases abaixo.

- I- Quer ser o primeiro()
- II- Não desanime()
- III- Felizmente os negócios vão muito bem()

- A) I. (?) – II. (!) – III. (.)
- B) I. (!) – II. (.) – III. (?)
- C) I.(.) – II. (?) – III. (!)
- D) I.(;) – II. (.) – III. (?)

9. Em uma das alternativas o gênero de um dos vocábulos não muda. Assinale-a.

- A) algum poeta.
- B) leitor francês.
- C) jovem pálido.
- D) semelhante criatura.

10. O plural de principal diferencial é:

- A) principais diferencias.
- B) principais diferenciais.
- C) principal diferenciais.
- D) principaes diferencial.

A frase: "...você será o melhor do mundo.", retirada do texto, refere-se às questões 11, 12 e 13.

11. O verbo destacado está no Futuro do Presente do Indicativo, conjugando-o no Pretérito Imperfeito do Indicativo temos:

- A) foi.
- B) seria.
- C) era.
- D) fora.

12. Conjugando o verbo destacado na 1ª pessoa do plural temos:

- A) sereis.
- B) serão.
- C) serás.
- D) seremos.

13. Analisando sintaticamente 'o melhor do mundo.', temos:

- A) Predicado Nominal.
- B) Objeto Direto.
- C) Adjunto Adverbial de Lugar.
- D) Predicativo do Sujeito.

14. Assinale a única alternativa em que a colocação pronominal está correta.

- A) Se esqueceram dele depois do sucesso.
- B) Para mim, ser o melhor do mundo é tudo.
- C) Não preocupe-se com as pessoas que não conseguir agradar.
- D) Para mim ser o melhor do mundo devo insistir no que quero.

15. Não há o acento indicador da crase na alternativa:

- A) Esteja atento às ações do seu projeto.
- B) Como aprender à dizer "não".
- C) Às vezes, você tem uma ótima ideia que não é aceita pelo mercado simplesmente por ser muito à frente.
- D) Cheguei à conclusão que o pensamento positivo aumenta a confiança.

16. Analise a concordância verbal das frases abaixo.

- I- Há barreiras que aparece ao longo do caminho.
- II- Existe as barreiras que aparecem ao longo do caminho.
- III- É mais fácil convencer as pessoas sobre algo em que elas já acredite.

Estão incorretas:

- A) apenas as frases I e II.
- B) apenas as frases I e III.
- C) apenas as frases II e III.
- D) todas as frases.

17. Em todas as alternativas a concordância nominal está correta, exceto em:

- A) Foi um sucesso! Prevíamos menas pessoas.
- B) Infelizmente a palestra foi meio cansativa.
- C) A reunião começará ao meio dia e meia.
- D) O palestrante, ele mesmo, resolveu os imprevistos.

18. Indique a regência verbal que não está de acordo com a norma culta.

- A) Todos aspiram o melhor cargo na empresa.
- B) Bata a porta.
- C) Bata à porta.
- D) Sempre estou à disposição do meu superior.

19. Assinale a alternativa em que a regência nominal está correta.

- A) Seu ato foi inconsequente aos padrões da empresa.
- B) É difícil para entender o erro que você cometeu.
- C) Do que você é capaz para atingir o que quer?
- D) Seja sempre agradável com seus companheiros.

20. Relacione os blocos abaixo.

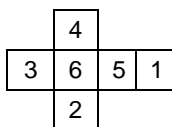
- a- derivação prefixal
- b- derivação sufixal
- c- derivação prefixal e sufixal
- d- derivação regressiva
- e- derivação parassintética

- () justamente
- () desmotivação
- () desafio

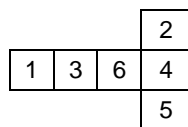
De acordo com o processo de formação das palavras a alternativa correta é:

- A) d – a – b.
- B) b – c – d.
- C) c – a – e.
- D) a – b – c.

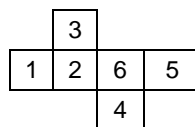
21. Fiz quatro planificações de cubos e escrevi em cada uma de suas faces números de 1 a 6 de modo que ao montá-las a soma dos números das faces opostas deverá ser sempre sete. A alternativa cuja planificação não atende a essa exigência é a identificada com o número:



(1)



(2)



(3)



(4)

- A) 3.
- B) 4.
- C) 1.
- D) 2.

22. Analise a série abaixo.

4 – 5 – 8 – 10 – 12 – 15 – ? – ? .

Completam-na os números:

- A) 18 – 22.
- B) 14 – 18.
- C) 20 – 24.
- D) 16 – 20.

23. Completa a sequência

8 – 11 – 17 – 26 – 38 – ? .

- A) 53.
- B) 48.
- C) 55.
- D) 57.

24. Seguindo a lógica e o sentido horário utilizados no preenchimento dos números da primeira figura abaixo, na segunda figura está faltando o número (?)

3	12
192	48

5	?
320	80

- A) 15.
- B) 25.
- C) 20.
- D) 30.

25. Usando seu raciocínio lógico complete o número que falta.

8	14	6
12	?	9
24	42	18

- A) 22.
- B) 21.
- C) 23.
- D) 25.

26. Complete a linha abaixo.

Quando não ouço música, eu durmo.
Quanto estou triste, ouço música.
Logo quando não estou triste,

- A) não durmo e não ouço música.
- B) durmo e ouço música.
- C) durmo e não ouço música.
- D) não durmo e ouço música.

27. Analise a estrutura abaixo.

O	Q	G	D	Q	C	D	O	
	G		Q		D		C	?
C		D	O	C	G	O	Q	G

Completa a faixa a alternativa:

A)

C		G
	O	
D		Q

B)

D		Q
	O	
C		G

C)

C		G
	O	
Q		D

D)

Q		D
	O	
C		G

28. Seis canetas coloridas, azul, verde, vermelha, branca, laranja e amarela, não necessariamente nessa ordem, estão dispostas uma ao lado da outra.

- A vermelha está numa extremidade e a laranja, na outra.
- A verde está ao lado da laranja e a azul ao lado da vermelha.
- A branca está entre a azul e a amarela.

Logo, a caneta verde está entre a laranja e a:

- A) azul.
- B) vermelha.
- C) amarela.
- D) branca.

29. As amigas Marisa, Luiza, Ana e Valéria moram na mesma rua, uma ao lado da outra, não necessariamente nessa ordem.

Marisa tem como vizinhas, do lado esquerdo, Luiza e do lado direito, Valéria. (na posição de quem está olhando para as casas).


A diferença de numeração entre as casas é 25 e Ana mora na casa 310.

Ana tem, apenas, Luiza como vizinha.

Logo, podemos afirmar, com certeza que:


- A) Luiza não é vizinha, de lado, de Valéria.
- B) Valéria mora na casa de número 385.
- C) A diferença da numeração das casas de Luiza e Marisa é 75.
- D) A casa de Marisa é de número 335.

30. Analise a sequência abaixo e assinale qual é a próxima figura da sequência.



- A)
- B)
- C)
- D)

31. Analise os dados estatísticos abaixo publicados na Folha de São Paulo em 26/03/2013 sobre homicídios dolosos no Estado, Capital e Grande São Paulo.



Sobre esses dados podemos afirmar:

- () Comparando os dados registrados em fev/2013 concluímos que foi na Grande São Paulo que houve o maior percentual de aumento de homicídios dolosos em relação ao mesmo mês do ano anterior.
- () Analisando os dados estatísticos de fev/2013, no Estado de São Paulo (capital, grande São Paulo e interior) o percentual de aumento (13,1%) desse tipo de criminalidade foi menor que o da Capital e da Grande São Paulo, devido ao índice de aumento registrado no interior do Estado.
- () Comparada com a Grande São Paulo, a Capital teve registrado, em fev./2013, 11 casos de homicídios dolosos a menos.

Identificando as afirmações acima como (V) verdadeiras ou (F) falsas, temos, na sequência:

- A) V – F – V.
- B) F – V – V.
- C) V – V – F.
- D) V – V – V.

32. Para resolver essa questão tome como base os dados da pesquisa sobre a violência no Estado de São Paulo da questão anterior. A taxa de homicídios dolosos no interior do Estado de São Paulo, em fev./2013 é _____ maior, aproximadamente, em relação ao ano anterior (fev./2012).

Obs.: Na resposta arredonde para maior para obter número inteiro.

- A) 8%
- B) 13,1%
- C) 14,7%
- D) 5%

33. Sobre as medidas de tendência central podemos afirmar:

- A média é, das medidas de tendência central a de maior emprego, embora seja influenciada por valores extremos, podendo, em alguns casos, não representar a série.
- A média depende de cada valor da série e qualquer alteração de um deles altera seu valor.
- A mediana é uma medida separatriz e serve para análise comparativa.
- A moda é uma medida de posição que pode não existir em uma série ou apresentar-se mais do que uma vez em outra.
- Quando se quer identificar a preferência em uma situação, definir a faixa etária mais frequente em um local ou saber a numeração de calçado masculino mais vendido de determinada marca deve-se usar a média.

Estão corretas:

- A) três das afirmações.
- B) duas das afirmações.
- C) quatro das afirmações.
- D) todas as afirmações.

34. A tabela abaixo registra as notas obtidas por alunos que frequentam um cursinho preparatório para concursos em uma prova simulada.

Nota obtida	Número de alunos
3	1
4	2
5	7
7	3
8	6
9	4
10	3

A moda, a média e a mediana do conjunto de notas obtidas pelos alunos são, respectivamente:

Obs.: Use na resposta duas casas decimais sem aproximação.

- A) 8 – 6,86 – 7.
- B) 5 – 6,96 – 7,5.
- C) 5 – 7,25 – 8.
- D) 8 – 6,75 – 7,25.

As questões 35 e 36 são sequenciais.

35. Paguei por um veículo a quantia total de R\$ 54.599,40. Dei uma entrada e o restante, correspondente a 80% do valor da entrada, quando o veículo me foi entregue. A entrada paga foi de:

- A) R\$ 43.679,20.
- B) R\$ 33.679,20.
- C) R\$ 30.333,00.
- D) R\$ 40.333,00.

36. Meu colega aproveitou a mesma oferta e comprou um veículo igual ao meu. Pagou o mesmo valor e deu a mesma quantia de entrada. O restante ele financiou em 2 anos, a juros simples de 1,25% a.m. O valor financiado será pago em prestações fixas de:

- A) R\$ 1.314,43.
- B) R\$ 1.224,43.
- C) R\$ 1.304,43.
- D) R\$ 1.324,43.

37. Numa repartição a razão entre o número de técnicos de pesquisa e auxiliares administrativos é de 5 para 7. Se essa repartição contratar mais 6 auxiliares administrativos passará a contar com 54 funcionários nessas duas áreas. Nessa repartição trabalham _____ técnicos de pesquisa.

- A) 28
- B) 22
- C) 26
- D) 20

38. Um pesquisador para realizar metade de sua pesquisa trabalhou 4 horas diárias por 15 dias. Para terminá-la passou a trabalhar duas horas a mais. Realizou a pesquisa toda em _____ dias.
- A) 10
 - B) 25
 - C) 15
 - D) 20
39. Para descarregar o material de consumo de uma repartição foram destinados dois funcionários. Um leva 4 caixas por vez e gasta 6 minutos para ir e voltar do depósito. O outro leva 6 caixas por vez e demora 5 minutos no mesmo trajeto. Enquanto o mais rápido levou 120 caixas o mais lento levou _____ caixas, no mesmo espaço de tempo de _____ minutos.
- A) 96 – 168
 - B) 216 – 180
 - C) 206 – 168
 - D) 106 – 180
40. Para fins de promoção foi aplicada uma prova para os funcionários de uma repartição. Essa prova teve peso 7 e um funcionário tirou nota 5,6. Se essa prova tivesse valor 10, a nota desse funcionário seria:
- A) 8.
 - B) 8,5.
 - C) 9.
 - D) 7,5.