



# PREFEITURA MUNICIPAL DE SÃO BENEDITO – CE

## CONCURSO PÚBLICO – EDITAL 001/2015

### BIBLIOTECÁRIO

NOME DO CANDIDATO: \_\_\_\_\_

RG: \_\_\_\_\_ ÓRGÃO EXPEDIDOR: \_\_\_\_\_

Nº DE INSCRIÇÃO

--	--	--	--	--	--	--	--	--	--

ASSINATURA: \_\_\_\_\_

### LEIA COM ATENÇÃO E SIGA RIGOROSAMENTE ESTAS INSTRUÇÕES:

1. Este caderno contém 60 (sessenta) questões de múltipla escolha, numeradas de 01 a 60.
2. Cada uma das questões apresenta um enunciado seguido de 5 (cinco) alternativas, das quais somente uma deve ser assinalada.
3. Examine se a prova está completa, com a sequência numérica das questões, se há falhas ou imperfeições gráficas que causem dúvidas. Qualquer reclamação deverá ser feita durante os 20 minutos iniciais. Após esse tempo, qualquer reclamação será desconsiderada.
4. Depois de decorridas 2 (duas) horas do início da prova, será distribuído o cartão-resposta, o qual será o único documento válido para a correção da prova. Ao recebê-lo, verifique se seu nome e seu número de inscrição estão corretos. Reclame imediatamente se houver discrepância.
5. O cartão-resposta não pode ser dobrado, amassado, rasurado ou manchado. Exceto sua assinatura e inscrição, nada deve ser escrito ou registrado fora dos locais destinados às respostas. Tenha muita atenção ao marcar seu cartão-resposta, pois não haverá substituição por erro do candidato. Marque sua resposta pintando completamente o espaço correspondente à alternativa de sua opção.  
  
Ex.: A ○ B ● C ○ D ○ E ○
6. A leitora de marcas não registrará as respostas em que houver falta de nitidez, uso de corretivo, marcação a lápis ou marcação de mais de uma letra. Não serão computadas questões não assinaladas.
7. Durante a prova, é proibido o intercâmbio e o empréstimo de material de qualquer natureza entre os candidatos. A tentativa de fraude, a indisciplina e o desrespeito às autoridades encarregadas dos trabalhos são faltas que implicarão a desclassificação do(a) candidato(a).
8. Qualquer forma de comunicação entre candidatos implicará a eliminação de ambos do certame.
9. Não será permitido ao candidato, durante a realização das provas, portar armas, aparelhos eletrônicos de qualquer natureza, relógios, bolsas, livros, jornais e impressos em geral; bonés, chapéus, lenço de cabelo, bandanas etc.
10. É vedado o uso de telefone celular ou de qualquer outro meio de comunicação. O candidato que for flagrado portando aparelho celular, durante o período de realização da prova, ou, ainda, aquele cujo aparelho celular tocar, será sumariamente eliminado do certame.
11. Em caso de dúvida, durante a prova, levante o braço para solicitar atendimento da fiscalização. Jamais pergunte em voz alta.
12. O candidato que permanecer na sala de provas, por mais de 3h45min, poderá levar consigo a cópia do gabarito, em formulário específico, fornecido pela **ORGANIZADORA**.
13. Ao terminar a resolução da prova, entregue-a ao fiscal de sala juntamente com o **cartão-resposta** (devidamente assinado). Não se esqueça, também, de **assinar a folha de frequência**.
14. As provas terão duração de 4 (quatro) horas. Turno da Manhã com início às 08h00min e término às 12h00min. Turno da Tarde com início às 14h00min e término às 18h00min. O candidato só poderá ausentar-se da sala depois de decorridas duas horas do início das provas.
15. Os **Gabaritos Preliminares das Provas Objetivas** serão divulgados 72 (setenta e duas) horas após a realização das mesmas.



**CONHECIMENTOS GERAIS**

Leia o Texto I, para responder às questões 1 a 6.

**TEXTO I  
TOCANDO EM FRENTE**

Ando devagar porque já tive pressa  
E levo esse sorriso porque já chorei demais  
Hoje me sinto mais forte, mais feliz,  
Quem sabe eu só levo a certeza  
De que muito pouco eu sei  
Ou nada sei.

Conhecer as manhas e as manhãs,  
O sabor das massas e das maçãs.  
É preciso amor para poder pulsar,  
É preciso paz para poder sorrir,  
É preciso chuva para florir.

Penso que cumprir a vida seja simplesmente  
Compreender a marcha e ir tocando em frente.  
Como um velho boiadeiro levando a boiada,  
Eu vou tocando os dias pela longa estrada, eu sou  
Estrada eu vou.

Todo mundo ama um dia  
Todo mundo chora um dia  
A gente chega e no outro vai embora  
Cada um de nós compõe a sua história  
E cada ser em si  
Carrega o dom de ser capaz  
E ser feliz

(Almir Sater / Renato Teixeira)

**1. Os versos “Ando devagar porque já tive pressa / E levo esse sorriso porque já chorei demais” denotam**

- alegria.
- experiência.
- tristeza.
- sagacidade.
- popularidade.

**2. Segundo o Texto I, a felicidade depende**

- do amor.
- do sorriso.
- de cada ser.
- das manhas e das manhãs.
- da compreensão.

**3. O tema central do Texto I é o(a)**

- boiada.
- amor.
- felicidade.
- vida.
- conhecimento.

**4. De acordo com o Texto I, marque a opção CORRETA.**

- Nem todas as pessoas têm a oportunidade de amar.
- Poucas pessoas sofrem na vida.
- Os dias são todos iguais.
- Não somos responsáveis pelo que acontece conosco.
- A felicidade está em cada um de nós.

**5. Os versos “Como um velho boiadeiro levando a boiada, / Eu vou tocando os dias pela longa estrada” estabelecem uma circunstância de**

- comparação.
- causa.
- consequência.
- condição.
- proporção.

**6. Indique a opção CORRETA em relação ao período “...muito pouco eu sei / Ou nada sei”.**

- É composto por subordinação e tem oração concessiva.
- É composto por coordenação e tem oração alternativa.
- É composto por coordenação e tem oração aditiva.
- É composto por subordinação e tem oração predicativa.
- É um período simples.

**7. Em relação à correlação entre tempos verbais, marque a opção INCORRETA.**

- Se eu tiver condições, ficarei aqui por alguns meses.
- Se eu tivesse condições, ficaria aqui por alguns meses.
- Se você tem condições, fique aqui por alguns meses.
- Se nós temos condições, ficamos aqui por alguns meses.
- Se eu tivesse condições, ficava aqui por alguns meses.

**8. Marque a opção que contém apenas pronomes indefinidos.**

- que / qual / muito / um.
- este / aquele / o / isso.
- algum / outrem / alguém / cada.
- que / qual / quanto / quem.
- minha / nossas / seu / vosso.

**9. Em qual das alternativas a conjunção “e” exerce valor adversativo?**

- Casou e viajou.
- A casa era antiga e muito conservada.
- Juçara fuma, e não traga.
- “Dá-me um ponto de apoio, e suspenderei a terra.”
- Precisamos esclarecer isso, e logo.

Leia o Texto II, para responder às questões 10 a 13.

**TEXTO II**

Pode dizer-se que a presença do negro representou sempre fator obrigatório no desenvolvimento dos latifúndios coloniais. Os antigos moradores da terra foram, eventualmente, prestimosos colaboradores da indústria extrativa, na caça, na pesca, em determinados ofícios mecânicos e na criação do gado.

Difícilmente se acomodavam, porém, ao trabalho acurado e metódico que exige a exploração dos canaviais. Sua tendência espontânea era para as atividades menos sedentárias e que pudessem exercer-se sem regularidade forçada e sem vigilância e fiscalização de estranhos.

(Sérgio Buarque de Holanda, in Raízes)

**10. “Prestimosos colaboradores”, linhas 3 e 4, é o mesmo que**

- importantes colaboradores.
- inúteis colaboradores.
- muitos colaboradores.
- velozes colaboradores.
- infinitos colaboradores.

**11. De acordo com o Texto II, os antigos moradores da terra não tinham**

- habilidades.
- trabalho.
- disposição.
- preguiça.
- responsabilidade.

**12. Marque a opção CORRETA quanto à função sintática do termo “Os antigos moradores da terra...”, no primeiro parágrafo.**

- Sujeito composto.
- Sujeito simples cujo núcleo é moradores.
- Sujeito simples cujo núcleo é antigos.
- Sujeito oracional.
- Sujeito indeterminado.

**13. Em “Difícilmente se acomodavam...” o termo destacado é**

- advérbio de tempo.
- adjetivo.
- adjunto adnominal.
- adjunto adverbial de tempo.
- advérbio de modo.

14. Marque a alternativa CORRETA quanto à concordância.

- Há menos gente na cidade hoje.
- Conheci bastante pessoas na festa.
- Ela anda meio desanimada.
- Comprei duzentas gramas de queijo.
- Ela disse muito obrigado ao rapaz que a ajudou.

15. Pela mesma regra de pássaro e júri devem ser acentuadas as seguintes palavras:

- Pessego e gari.
- Relampago e taxi.
- Desemprego e iris.
- Bussola e caju.
- Armazem e vi.

16. Marque a opção em que a palavra foi formada por aglutinação.

- Girassol.
- Desconforto.
- Refazer.
- Vinagre.
- Amanhecer.

17. Calcule o juro simples referente a um capital de R\$ 2.400,00 nas seguintes condições: taxa de juros 21% a.a. e prazo: 32 dias.

- R\$ 44,80.
- R\$ 52,40.
- R\$ 58,90.
- R\$ 72,00.
- R\$ 84,70.

18. Considere dois números inteiros, "a" e "b", consecutivos e positivos. Qual das expressões corresponde, necessariamente, a um número par em seu resultado?

- $1 + a + b$ .
- $2a + b$ .
- $a + b$ .
- $1 + ab$ .
- $2 + a + b$ .

19. Num grupo de pessoas, verificou-se que 310 leram apenas um dos gibis A ou B; 270, o gibi B; 80, os dois gibis, A e B; e 340 não leram o gibi A. O número de estudantes desse grupo é igual a

- 480.
- 380.
- 540.
- 610.
- 430.

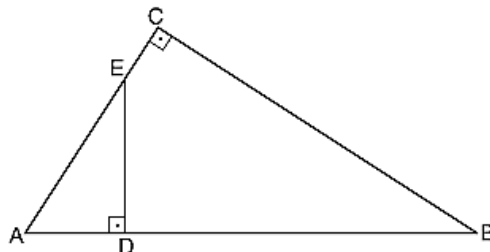
20. A loja de computadores instrui seus vendedores para calcularem o preço de uma mercadoria nas compras com cartão de crédito, dividindo o preço à vista por 0,75. Dessa forma, pode-se concluir que o valor da compra com cartão de crédito em relação ao preço à vista apresenta um

- desconto de 33,33%
- aumento de 25%
- desconto de 75%
- aumento de 33,33%
- aumento de 75%

21. Se  $f$  é uma função do primeiro grau tal que  $f(12) = 45$  e  $f(15) = 54$ , então  $f(18)$  é igual a

- 60.
- 61.
- 62.
- 63.
- 65.

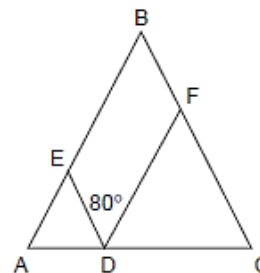
22. Na figura,  $AC = 5$ ,  $BC = 6$  e  $DE = 3$ .



A área do triângulo ADE é

- 10.
- 15.
- $15/2$ .
- $15/4$ .
- $15/8$ .

23. Na figura a seguir, tem-se que  $AD = AE$ ,  $CD = DF$  e  $BA = BC$  e o ângulo EDF mede  $80^\circ$ .



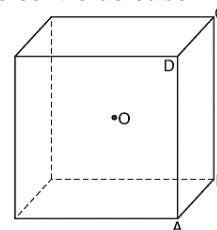
Quanto mede o ângulo ABC?

- $90^\circ$
- $60^\circ$
- $20^\circ$
- $30^\circ$
- $50^\circ$

24. João encontrou um paralelepípedo retangular com lados de 2, 3 e 6 cm. A distância máxima entre dois vértices desse paralelepípedo, em cm, é

- 11.
- 10.
- 7.
- 8.
- 9.

25. Na figura, O é o centro do cubo.



Se o volume do cubo é 1, o volume da pirâmide de base ABCD e vértice O é

- $1/2$ .
- $1/3$ .
- $1/4$ .
- $1/6$ .
- $1/8$ .

26. Um trabalho pode ser feito em 2 horas por Pedro, em 3 horas por Maria e em 6 horas por Juquinha. Em quanto tempo será feito pelos 3 juntos?

- 1h.
- $1/2$ h.
- 2h e  $1/2$ .
- 1h e  $1/2$ .
- 2h.

27. A fração  $\frac{0,65}{0,0104}$  é equivalente a

- 1/15.
- 1/50.
- 2/125.
- 3/45.
- 9/125.

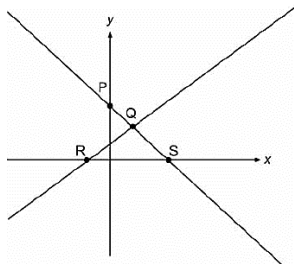
28. Calcule o Mínimo Múltiplo Comum (MMC) de (18, 75, 250) e marque a opção que apresenta o resultado CORRETO.

- 1.570.
- 2.135.
- 2.250.
- 3.350.
- 4.570.

29. Se o conserto de  $\frac{2}{3}$  de um carro foi realizado em 5 dias por 8 mecânicos trabalhando 6 horas por dia, o restante do conserto, agora, com 6 mecânicos, trabalhando 10 horas por dia será feito em quantos dias?

- 1.
- 2.
- 3.
- 4.
- 9.

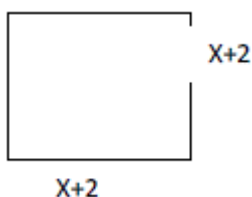
30. Observe a figura.



As retas da figura representam graficamente um sistema de duas equações do 1º grau com duas incógnitas, cuja solução pode ser representada pelo ponto

- P.
- R.
- S.
- Y.
- Q.

31. A área do seguinte quadrado é  $49 \text{ cm}^2$ .



O valor de X, em cm, é

- 3.
- 6.
- 5.
- 9.
- 11.

32. A base de uma pirâmide é um triângulo equilátero de lado  $L = 6 \text{ cm}$  e arestas laterais das faces  $A = 4 \text{ cm}$ . Calcule a altura da pirâmide em cm.

- 1.
- 2.
- 3.
- 4.
- 5.

33. Observe a charge:



A charge denuncia o(a)

- morte da ética em Brasília.
- sepultamento da ética no Planalto.
- falta de ética dos representantes do povo.
- ausência de ética nas deliberações do Congresso.
- morte do principal princípio de governo.

34. Na página, Sorriso Pensante por Ivan Cabral, um leitor registrou:

Sr. Ivan Cabral,

sou professor de Sociologia em Escola Pública do D.F. e peço autorização para utilizar sua charge em atividade de sala de aula.

A atitude do leitor

- demonstra simpatia pelo trabalho criativo do autor.
- é pedagógica por aplicar charge em atividade discente.
- coloca em dúvida sua atuação como professor, por solicitar produção alheia.
- compromete o conteúdo da Sociologia por não estar relacionado à charges.
- apresenta um comportamento ético em relação à autoria da charge.

Leia a notícia a seguir para responder às questões 35 e 36.

A ecologia integral do Papa Francisco

Correm rumores de que a ecologia integral é o tema central da encíclica sobre a ecologia e o clima do **Papa Francisco**, a ser publicada nos próximos meses. A Igreja aconselhará o seu 1,2 bilhão de membros sobre questões morais prementes. A eminente encíclica já gerou um considerável impacto na mídia, grande parte do qual pode ser seguido no sítio eletrônico do **Fórum Yale sobre Religião e Ecologia**.

<http://ihu.unisinos.br/noticias/543131-a-ecologia-integral-do-papa-francisco>

35. O "integral" no termo ecologia integral é a novidade. Nessa abordagem podemos esperar que o Papa refira-se em prioridade sobre a(s)

- bondade de Deus ao criar a natureza para o homem.
- responsabilidade de todos na proteção do Planeta.
- questões de igualdade e justiça social.
- desigualdade econômica extrema.
- competição desenfreada pelo recurso.

36. Encíclica, linhas 2 e 5, é

- o nível mais alto e o mais abrangente de ensinamento da Igreja Católica.
- o instrumento principal pelo qual a palavra do Papa se torna lei.
- a intenção de trabalho do cristão, ditada pelo Papa.
- o mandamento da era moderna para os cristãos.
- um pronunciamento do Papa que orienta cardeais e bispos.

Leia o Texto III, para responder à questão 37.

### TEXTO III

#### Imigração no Brasil: Ilegais provocam crise humanitária no Acre

19/04/2013 08h03

Vivendo em condições precárias, imigrantes haitianos aguardam visto provisório em Brasília no estado do Acre.

O Brasil sempre foi conhecido por ser um país aberto aos demais povos, não impondo restrições em suas fronteiras. Nos últimos anos, porém, o crescimento da economia, em meio à crise financeira que atingiu a Europa e os Estados Unidos, tornou o país atrativo para uma massa de imigrantes vindos de países pobres.

"É como se estivesse formada uma rota internacional migratória que se associa à crise social grave que vive o povo do Haiti e a Polícia Federal tem tratado essa questão com bastante cuidado", diz Tião Viana.

A questão é que muitos Estados, principalmente da região Norte, não possuem estrutura de apoio para receber esses imigrantes, a maioria ilegais. E a política da nação acolhedora acaba gerando uma crise social.

<http://vestibular.uol.com.br/resumo-das-disciplinas/atualidades/imigracao-no-brasil-ilegais-provocam-crise-humanitaria-no-acre.htm>

#### 37. Considerando o Texto III, analise as afirmações a seguir.

- I. A situação é mais grave onde cerca de 1,3 mil refugiados vivem em condições precárias, em abrigos improvisados, sem assistência médica ou alimentação adequada.
- II. O fluxo de estrangeiros aumentou no último mês e levou o governador do Acre, Tião Viana, a decretar situação de emergência humanitária no Estado.
- III. A rota migratória começou em 2010, quando um terremoto devastou o Nepal, matando cerca de 200 mil habitantes.
- IV. Após a tragédia, muitos habitantes do Nepal deixaram a ilha e vieram para o Brasil em busca de emprego, aqui eles recebem um "visto humanitário"
- V. A rota aberta pelos haitianos também atraiu imigrantes de outras nacionalidades, como senegaleses, nigerianos, dominicanos e indianos.
- VI. No caso de estrangeiros vindos de países africanos em guerra, a documentação é diferente, a condição é de refugiados.

#### Marque a opção que apresenta as afirmativas CORRETAS.

- a) I – III – V – VI
- b) III – IV – V – VI
- c) I – II – III – IV
- d) I – II – V – VI
- e) II – III – IV – VI.

#### 38. Leia a notícia:

Quando lembramos dos atletas olímpicos, logo vem à mente a referência da perseverança, disciplina, dedicação e força de vontade. Conquistas que seguem como exemplo para todo o mundo. Estar em contato, sintonia e respeito com o meio ambiente também faz parte dos bons exemplos a serem seguidos pelos estudantes dos Jogos Escolares da Juventude 2015 que estiveram, na manhã desta sexta-feira (4/9), em visita ao Parque Ecológico do Cocó, em Fortaleza.

(<http://www.ceara.gov.br/component/content/article/13955/13955>).

#### Os referidos atletas estiveram no Ceará para participar do(da)s

- a) Fórum Pró-Olimpíadas 2016.
- b) treinos de diversas modalidades classificatórias.
- c) disputas de atletismo a nível nacional.
- d) competições internacionais de *badminton*.
- e) Jogos Escolares da Juventude.

39. São Benedito tem muitos filhos ilustres que se destacaram em várias áreas do conhecimento, além de exercerem funções na política, na educação e na cultura. Um deles foi filósofo e escritor, catedrático do Colégio Pedro II no Rio de Janeiro, formado como bacharel em direito, possui monumento em sua homenagem, dentre outras ações. Essa é parte da biografia de

- a) Adolfo Correia de Araujo.
- b) Raimundo de Farias Brito.
- c) Claudio de Sá do Amaral.
- d) Mons. Tibúrcio Alves.
- e) Luiz Gonzaga Pinto de Araujo.

#### 40. A bandeira de São Benedito tem por lema "*Virtus et Labor*" que significa

- a) Vitória e Liberdade.
- b) Virtude e Trabalho.
- c) Vitória e Lealdade.
- d) Virtude e Liberdade.
- e) Valentia e Trabalho.

### CONHECIMENTOS ESPECÍFICOS

#### 41. A Bibliometria possui três leis básicas: Lei de Lotka, Lei de Bradford e Lei de Zipf. A Lei de Lotka corresponde à

- a) medição das áreas de dispersão sobre determinados assuntos.
- b) medição dos estudos desenvolvidos sobre o conteúdo das home pages.
- c) medição da produtividade de periódicos.
- d) medição da produtividade dos autores.
- e) frequência de ocorrência de palavras.

#### 42. Julgue os itens a seguir, baseando-se na Associação Brasileira de Normas Técnicas.

- I. A NBR 6022/2003 trata da apresentação de artigo em publicação periódica científica impressa.
- II. A NBR 6023/2002 trata da apresentação da informação em publicação periódica científica impressa.
- III. A NBR 10520/2002 trata da apresentação de citações em documentos.
- IV. A NBR 6029/2006 trata da apresentação de livros e folhetos.

#### Marque a opção que apresenta as afirmativas CORRETAS.

- a) I – III – IV
- b) II – III
- c) I – II – III – IV
- d) I – II – III
- e) I – II.

43. Em uma biblioteca, cada livro/documento irá receber o seu número de tombo e vários carimbos para assegurar a propriedade do exemplar. Marque a alternativa em que a função do setor é ser responsável por tornar os livros e documentos patrimônio da biblioteca.

- a) Atendimento.
- b) Preservação.
- c) Bibliográfica.
- d) Processos Técnicos.
- e) Registro.

44. Em função de sua utilização, o acervo que a biblioteca possui é o componente do serviço bibliotecário que tem sido objeto mais frequente de avaliação. A análise do uso real deste acervo está relacionada ao método de avaliação

- a) explicativa.
- b) demonstrativa.
- c) qualitativa.
- d) relativa.
- e) bibliográfica.

**45. A política de seleção procura garantir que todo material seja incorporado ao acervo segundo razões objetivas predeterminadas e não segundo preferências pessoais. Para tanto, a literatura especializada apresenta uma variedade de critérios que abordam**

- I. o conteúdo dos documentos: autoridade / precisão / imparcialidade / atualidade / cobertura / tratamento.
- II. a adequação ao usuário: conveniência / idioma / relevância / interesse / estilo.
- III. aspectos adicionais do documento: características físicas / aspectos especiais / contribuição potencial / custo.

**Marque a opção que indica a(s) afirmativa(s) CORRETA(S).**

- a) I – II
- b) II – III
- c) I
- d) I – II – III
- e) I – III.

**46. O catálogo de biblioteca exerce diversas funções. Uma delas é a de identificar documentos por suas características físicas e editoriais, por sua autoria ou por seu assunto, (Segundo Fiuza - 1980). Qual esta função?**

- a) Atendimento.
- b) Localizadora.
- c) Bibliográfica.
- d) De busca.
- e) Instrutiva.

**47. Observe as afirmativas a seguir e assinale a alternativa CORRETA.**

- a) Bibliometria é a análise quantitativa da comunicação escrita. Estudos que buscam quantificar os processos de comunicação escrita. Aplicação de métodos matemáticos e estatísticos a livros e outros de veículos de comunicação.
- b) Cienciometria é o conjunto de princípios e técnicas que devem ser seguidos na constituição, organização, gerência, desenvolvimento e utilização da information literacy. Está alicerçada em três pilares: organização, recuperação e disseminação
- c) Web semântica tem por objeto formar coleções das bibliotecas, seguindo os princípios e métodos da sua constituição, conservação, organização e comunicação.
- d) Documentação é a ciência que trata da filosofia, da teoria dos princípios de conservação e apresentação das obras de arte nos museus.
- e) Ciência da informação é o conjunto de conhecimentos e técnicas que tem por fim a pesquisa, reunião, descrição e utilização de documentos de qualquer natureza.

**48. Analise as afirmações a seguir tendo como base aos sinais gráficos da CDU.**

- I. A barra inclinada ou oblíqua, /, liga o primeiro e o último de uma série de números consecutivos para indicar um assunto amplo ou uma série de conceitos
- II. O sinal de dois pontos duplos, ::, indica uma relação geral, coordenada e recíproca entre dois ou mais assuntos.
- III. Sinal de chaves, {}, pode ser usado como um dispositivo de subagrupamento dentro de uma combinação complexa de números de CDU com o objetivo de esclarecer a relação dos seus componentes.
- IV. O sinal de coordenação, + (adição), é usado para ligar dois ou mais números separados, ou seja, não consecutivos, formando um assunto composto para o qual não existia um número simples na tabela CDU.

**Marque a opção que indica a(s) afirmativa(s) CORRETA(S).**

- a) IV
- b) I – IV
- c) II – III – IV
- d) III – IV.
- e) I.

**49. São várias as rotinas que envolvem o arquivamento de um documento na fase corrente e, do cuidado dispensado a cada uma delas, depende o bom atendimento ao usuário. Nem sempre os documentos são encaminhados ao arquivo com a finalidade de serem arquivados, mas anexados ou apensados a outros, ou, simplesmente, para ser fornecida uma informação. Este é o processo de**

- a) levantamento.
- b) análise.
- c) localizadora.
- d) inspeção.
- e) arquivamento.

**50. Considerando o Código de Ética do Profissional Bibliotecário, de acordo com o Artigo 2º, é dever do profissional de biblioteconomia, além do exercício de suas atividades,**

- a) contribuir para a viabilização da participação efetiva da população usuária nas decisões institucionais.
- b) zelar pela sua competência exclusiva na orientação técnica dos serviços do seu cargo.
- c) orientar a técnica da pesquisa e a normalização do trabalho intelectual de acordo com suas competências.
- d) dignificar, através de seus atos, a profissão, tendo em vista a elevação moral, ética e profissional da classe.
- e) aplicar todo o zelo e os recursos ao seu alcance no atendimento ao público, recusando-se a prestar assistência profissional.

**51. A intervenção na rotina da organização, usando conceitos e métodos das Ciências Sociais para avaliar o estado da organização num determinado momento, com o objetivo de identificar pontos fortes e fracos na estrutura e funcionamento do planejamento de serviços de bibliotecas e unidades de informação, denomina-se**

- a) diagnóstico organizacional.
- b) organização de acervo.
- c) visita técnica orientada.
- d) representação da informação.
- e) retroalimentação de sistemas.

**52. A Classificação Decimal Universal (CDU), apresenta algumas características fundamentais, dentre as quais se destacam duas que são**

- a) decimalidade e rigidez.
- b) universalidade e não permite combinação de assuntos.
- c) caráter hierárquico e não permite combinação de assuntos.
- d) rigidez e universalidade.
- e) decimalidade e caráter hierárquico.

**53. São documentos em suportes sintéticos, em papel emulsionado ou não, contendo imagens estáticas. Exemplos: fotografias, desenhos e gravuras. Referimo-nos a documentos**

- a) iconográficos.
- b) etnográficos.
- c) filmográficos.
- d) sonoros.
- e) textuais.

**54. Assinale a opção a que se refere a definição a seguir.**

**Obra de referência, periódica ou não, que informa nome, endereço, tipo(s) de suportes, assunto(s) coberto(s), recursos humanos e outros dados relativos a bibliotecas, centros de informação e documentação.**

- a) Repositório de dados.
- b) Guias de unidades informacionais.
- c) Bibliografia.
- d) Índice onomástico.
- e) Repertório bibliográfico.

**55. João Paulo, aluno regular do curso de pós-Graduação em assuntos especiais, para finalizar o referencial teórico de sua dissertação, necessita de um artigo publicado em um periódico impresso de 1985. O referido aluno precisa do texto na íntegra. Mesmo tentando localizar na Internet, na biblioteca de sua faculdade e até com seus professores. Ainda assim não obteve êxito em sua busca, somente conseguiu o abstract. Após consultar o bibliotecário, tomou conhecimento de um serviço que poderia resolver o problema. Como se denomina este serviço?**

- Desenvolvimento de Coleções.
- Disseminação Seletiva da Informação.
- Normalização Bibliográfica.
- Comutação Bibliográfica.
- Portal de Periódicos do CNPq.

**56. Quando o usuário identificou seu problema, reconheceu sua necessidade de informação, mas não a expressou de forma inteligível e clara na forma de uma questão pela qual seja possível dar início à busca/pesquisa, (Segundo Grogan – 1995), é recomendado ao bibliotecário**

- refazer a estratégia de busca.
- aprimorar o processo de busca.
- ignorar o problema inicial.
- realizar a entrevista de referência.
- apresentar uma solução.

**57. Operação periódica, geralmente anual, que se destina a coerência nos registros dos documentos a conferir, bem como verificar a integridade das coleções de uma biblioteca.**

**Essa definição refere-se à(ao)**

- desenvolvimento de coleção.
- inventário.
- seleção.
- classificação.
- registro.

**58. Analise as afirmativas a seguir e marque (V) para as VERDADEIRAS e (F) para as FALSAS.**

( ) A função da unidade de controle de um computador é aceitar dados que são convertidos para uma forma legível por computador e que serão transmitidos para a unidade processadora.

( ) A memória secundária mantém um registro permanente de dados e programas, armazena o programa e os dados que estejam sendo processados.

( ) Os dispositivos de entrada decodificam e executam funções do programa, administram e coordenam os movimentos dos dados no processador.

( ) Os dispositivos de saída aceitam dados procedentes do processador e os convertem para o formato de saída.

( ) Alguns dispositivos de entrada são teclado, mouse, caixa de som, pendrive e câmera digital.

**Marque a opção que apresenta a sequência CORRETA**

- F – V – F – V – F
- V – V – V – F – F
- V – F – F – V – V
- F – F – V – V – V
- F – V – V – F – F.

**59. Sobre as bibliotecas digitais, marque a opção CORRETA.**

- Ajuda a evitar ataques de sites fraudulentos que podem roubar informações financeiras.
- A organização documental dispensa o uso de classificações e mecanismos estruturais.
- A definição do seu conceito visa ampliar e substituir o conceito das bibliotecas tradicionais.
- Esquemas facetados são adequados para o uso na organização documental. O vocabulário
- O vocabulário controlado é dispensável à estrutura adequada para a organização do acervo.

**60. Analise as afirmativas a seguir sobre o AACR2 (Anglo-American Cataloguing Rules - revisão 2002).**

- Sobre o título principal de um livro deve-se transcrevê-lo exatamente igual à sua redação, ordem e grafia da fonte de informação principal, mas não necessariamente quanto ao uso de maiúsculas.
- Se a indicação de responsabilidade de um livro não for extraída da fonte principal, ela deve ser colocada entre colchetes.
- Em indicações de responsabilidades deve-se incluir abreviaturas de títulos de tratamento quando o título for um título de nobreza.
- Se a indicação do lugar de edição de um livro aparecer de forma abreviada, deve-se transcrevê-lo conforme indicado, mas acrescentar a forma completa entre colchetes.

**Marque a opção que apresenta as afirmativas CORRETAS.**

- III – IV
- II – III – IV
- I – II – III – IV
- I – II – IV
- I – II – III.