



PREFEITURA MUNICIPAL DE SÃO BENEDITO – CE

CONCURSO PÚBLICO – EDITAL 001/2015

CIRURGIÃO DENTISTA

NOME DO CANDIDATO: _____

RG: _____ ÓRGÃO EXPEDIDOR: _____

Nº DE INSCRIÇÃO

--	--	--	--	--	--	--	--	--	--

ASSINATURA: _____

LEIA COM ATENÇÃO E SIGA RIGOROSAMENTE ESTAS INSTRUÇÕES:

1. Este caderno contém 60 (sessenta) questões de múltipla escolha, numeradas de 01 a 60.
2. Cada uma das questões apresenta um enunciado seguido de 5 (cinco) alternativas, das quais somente uma deve ser assinalada.
3. Examine se a prova está completa, com a sequência numérica das questões, se há falhas ou imperfeições gráficas que causem dúvidas. Qualquer reclamação deverá ser feita durante os 20 minutos iniciais. Após esse tempo, qualquer reclamação será desconsiderada.
4. Depois de decorridas 2 (duas) horas do início da prova, será distribuído o cartão-resposta, o qual será o único documento válido para a correção da prova. Ao recebê-lo, verifique se seu nome e seu número de inscrição estão corretos. Reclame imediatamente se houver discrepância.
5. O cartão-resposta não pode ser dobrado, amassado, rasurado ou manchado. Exceto sua assinatura e inscrição, nada deve ser escrito ou registrado fora dos locais destinados às respostas. Tenha muita atenção ao marcar seu cartão-resposta, pois não haverá substituição por erro do candidato. Marque sua resposta pintando completamente o espaço correspondente à alternativa de sua opção.

Ex.: A ○ B ● C ○ D ○ E ○
6. A leitora de marcas não registrará as respostas em que houver falta de nitidez, uso de corretivo, marcação a lápis ou marcação de mais de uma letra. Não serão computadas questões não assinaladas.
7. Durante a prova, é proibido o intercâmbio e o empréstimo de material de qualquer natureza entre os candidatos. A tentativa de fraude, a indisciplina e o desrespeito às autoridades encarregadas dos trabalhos são faltas que implicarão a desclassificação do(a) candidato(a).
8. Qualquer forma de comunicação entre candidatos implicará a eliminação de ambos do certame.
9. Não será permitido ao candidato, durante a realização das provas, portar armas, aparelhos eletrônicos de qualquer natureza, relógios, bolsas, livros, jornais e impressos em geral; bonés, chapéus, lenço de cabelo, bandanas etc.
10. É vedado o uso de telefone celular ou de qualquer outro meio de comunicação. O candidato que for flagrado portando aparelho celular, durante o período de realização da prova, ou, ainda, aquele cujo aparelho celular tocar, será sumariamente eliminado do certame.
11. Em caso de dúvida, durante a prova, levante o braço para solicitar atendimento da fiscalização. Jamais pergunte em voz alta.
12. O candidato que permanecer na sala de provas, por mais de 3h45min, poderá levar consigo a cópia do gabarito, em formulário específico, fornecido pela **ORGANIZADORA**.
13. Ao terminar a resolução da prova, entregue-a ao fiscal de sala juntamente com o **cartão-resposta** (devidamente assinado). Não se esqueça, também, de **assinar a folha de frequência**.
14. As provas terão duração de 4 (quatro) horas. Turno da Manhã com início às 08h00min e término às 12h00min. Turno da Tarde com início às 14h00min e término às 18h00min. O candidato só poderá ausentar-se da sala depois de decorridas duas horas do início das provas.
15. Os **Gabaritos Preliminares das Provas Objetivas** serão divulgados 72 (setenta e duas) horas após a realização das mesmas.

CONHECIMENTOS GERAIS

Leia o Texto I, para responder às questões 1 a 6.

**TEXTO I
TOCANDO EM FRENTE**

Ando devagar porque já tive pressa
E levo esse sorriso porque já chorei demais
Hoje me sinto mais forte, mais feliz,
Quem sabe eu só levo a certeza
De que muito pouco eu sei
Ou nada sei.

Conhecer as manhas e as manhãs,
O sabor das massas e das maçãs.
É preciso amor para poder pulsar,
É preciso paz para poder sorrir,
É preciso chuva para florir.

Penso que cumprir a vida seja simplesmente
Compreender a marcha e ir tocando em frente.
Como um velho boiadeiro levando a boiada,
Eu vou tocando os dias pela longa estrada, eu sou
Estrada eu vou.

Todo mundo ama um dia
Todo mundo chora um dia
A gente chega e no outro vai embora
Cada um de nós compõe a sua história
E cada ser em si
Carrega o dom de ser capaz
E ser feliz

(Almir Sater / Renato Teixeira)

1. Os versos “Ando devagar porque já tive pressa / E levo esse sorriso porque já chorei demais” denotam

- alegria.
- experiência.
- tristeza.
- sagacidade.
- popularidade.

2. Segundo o Texto I, a felicidade depende

- do amor.
- do sorriso.
- de cada ser.
- das manhas e das manhãs.
- da compreensão.

3. O tema central do Texto I é o(a)

- boiada.
- amor.
- felicidade.
- vida.
- conhecimento.

4. De acordo com o Texto I, marque a opção CORRETA.

- Nem todas as pessoas têm a oportunidade de amar.
- Poucas pessoas sofrem na vida.
- Os dias são todos iguais.
- Não somos responsáveis pelo que acontece conosco.
- A felicidade está em cada um de nós.

5. Os versos “Como um velho boiadeiro levando a boiada, / Eu vou tocando os dias pela longa estrada” estabelecem uma circunstância de

- comparação.
- causa.
- consequência.
- condição.
- proporção.

6. Indique a opção CORRETA em relação ao período “...muito pouco eu sei / Ou nada sei”.

- É composto por subordinação e tem oração concessiva.
- É composto por coordenação e tem oração alternativa.
- É composto por coordenação e tem oração aditiva.
- É composto por subordinação e tem oração predicativa.
- É um período simples.

7. Em relação à correlação entre tempos verbais, marque a opção INCORRETA.

- Se eu tiver condições, ficarei aqui por alguns meses.
- Se eu tivesse condições, ficaria aqui por alguns meses.
- Se você tem condições, fique aqui por alguns meses.
- Se nós temos condições, ficamos aqui por alguns meses.
- Se eu tivesse condições, ficava aqui por alguns meses.

8. Marque a opção que contém apenas pronomes indefinidos.

- que / qual / muito / um.
- este / aquele / o / isso.
- algum / outrem / alguém / cada.
- que / qual / quanto / quem.
- minha / nossas / seu / vosso.

9. Em qual das alternativas a conjunção “e” exerce valor adversativo?

- Casou e viajou.
- A casa era antiga e muito conservada.
- Juçara fuma, e não traga.
- “Dá-me um ponto de apoio, e suspenderei a terra.”
- Precisamos esclarecer isso, e logo.

Leia o Texto II, para responder às questões 10 a 13.

TEXTO II

Pode dizer-se que a presença do negro representou sempre fator obrigatório no desenvolvimento dos latifúndios coloniais. Os antigos moradores da terra foram, eventualmente, prestimosos colaboradores da indústria extrativa, na caça, na pesca, em determinados ofícios mecânicos e na criação do gado.

Difícilmente se acomodavam, porém, ao trabalho acurado e metódico que exige a exploração dos canaviais. Sua tendência espontânea era para as atividades menos sedentárias e que pudessem exercer-se sem regularidade forçada e sem vigilância e fiscalização de estranhos.

(Sérgio Buarque de Holanda, in Raízes)

10. “Prestimosos colaboradores”, linhas 3 e 4, é o mesmo que

- importantes colaboradores.
- inúteis colaboradores.
- muitos colaboradores.
- velozes colaboradores.
- infinitos colaboradores.

11. De acordo com o Texto II, os antigos moradores da terra não tinham

- habilidades.
- trabalho.
- disposição.
- preguiça.
- responsabilidade.

12. Marque a opção CORRETA quanto à função sintática do termo “Os antigos moradores da terra...”, no primeiro parágrafo.

- Sujeito composto.
- Sujeito simples cujo núcleo é moradores.
- Sujeito simples cujo núcleo é antigos.
- Sujeito oracional.
- Sujeito indeterminado.

13. Em “Difícilmente se acomodavam...” o termo destacado é

- advérbio de tempo.
- adjetivo.
- adjunto adnominal.
- adjunto adverbial de tempo.
- advérbio de modo.

14. Marque a alternativa CORRETA quanto à concordância.

- Há menos gente na cidade hoje.
- Conheci bastante pessoas na festa.
- Ela anda meio desanimada.
- Comprei duzentas gramas de queijo.
- Ela disse muito obrigado ao rapaz que a ajudou.

15. Pela mesma regra de pássaro e júri devem ser acentuadas as seguintes palavras:

- Pessego e gari.
- Relampago e taxi.
- Desemprego e iris.
- Bussola e caju.
- Armazem e vi.

16. Marque a opção em que a palavra foi formada por aglutinação.

- Girassol.
- Desconforto.
- Refazer.
- Vinagre.
- Amanhecer.

17. Calcule o juro simples referente a um capital de R\$ 2.400,00 nas seguintes condições: taxa de juros 21% a.a. e prazo: 32 dias.

- R\$ 44,80.
- R\$ 52,40.
- R\$ 58,90.
- R\$ 72,00.
- R\$ 84,70.

18. Considere dois números inteiros, "a" e "b", consecutivos e positivos. Qual das expressões corresponde, necessariamente, a um número par em seu resultado?

- $1 + a + b$.
- $2a + b$.
- $a + b$.
- $1 + ab$.
- $2 + a + b$.

19. Num grupo de pessoas, verificou-se que 310 leram apenas um dos gibis A ou B; 270, o gibi B; 80, os dois gibis, A e B; e 340 não leram o gibi A. O número de estudantes desse grupo é igual a

- 480.
- 380.
- 540.
- 610.
- 430.

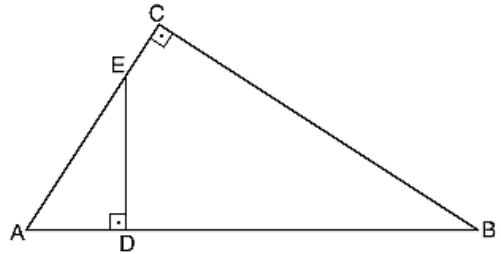
20. A loja de computadores instrui seus vendedores para calcularem o preço de uma mercadoria nas compras com cartão de crédito, dividindo o preço à vista por 0,75. Dessa forma, pode-se concluir que o valor da compra com cartão de crédito em relação ao preço à vista apresenta um

- desconto de 33,33%
- aumento de 25%
- desconto de 75%
- aumento de 33,33%
- aumento de 75%

21. Se f é uma função do primeiro grau tal que $f(12) = 45$ e $f(15) = 54$, então $f(18)$ é igual a

- 60.
- 61.
- 62.
- 63.
- 65.

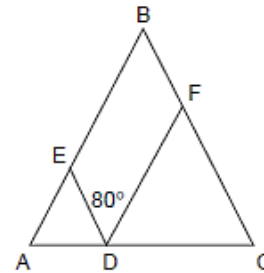
22. Na figura, $AC = 5$, $BC = 6$ e $DE = 3$.



A área do triângulo ADE é

- 10.
- 15.
- $15/2$.
- $15/4$.
- $15/8$.

23. Na figura a seguir, tem-se que $AD = AE$, $CD = DF$ e $BA = BC$ e o ângulo EDF mede 80° .



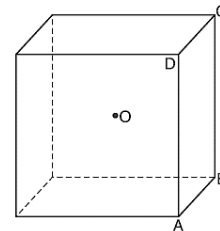
Quanto mede o ângulo ABC?

- 90°
- 60°
- 20°
- 30°
- 50°

24. João encontrou um paralelepípedo retangular com lados de 2, 3 e 6 cm. A distância máxima entre dois vértices desse paralelepípedo, em cm, é

- 11.
- 10.
- 7.
- 8.
- 9.

25. Na figura, O é o centro do cubo.



Se o volume do cubo é 1, o volume da pirâmide de base ABCD e vértice O é

- $1/2$.
- $1/3$.
- $1/4$.
- $1/6$.
- $1/8$.

26. Um trabalho pode ser feito em 2 horas por Pedro, em 3 horas por Maria e em 6 horas por Juquinha. Em quanto tempo será feito pelos 3 juntos?

- 1h.
- $1/2$ h.
- 2h e $1/2$.
- 1h e $1/2$.
- 2h.

27. A fração $\frac{0,65}{0,0104}$ é equivalente a

- 1/15.
- 1/50.
- 2/125.
- 3/45.
- 9/125.

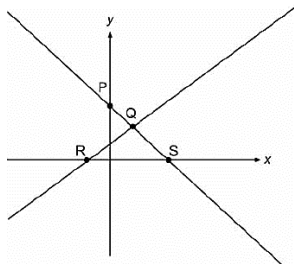
28. Calcule o Mínimo Múltiplo Comum (MMC) de (18, 75, 250) e marque a opção que apresenta o resultado CORRETO.

- 1.570.
- 2.135.
- 2.250.
- 3.350.
- 4.570.

29. Se o conserto de $\frac{2}{3}$ de um carro foi realizado em 5 dias por 8 mecânicos trabalhando 6 horas por dia, o restante do conserto, agora, com 6 mecânicos, trabalhando 10 horas por dia será feito em quantos dias?

- 1.
- 2.
- 3.
- 4.
- 9.

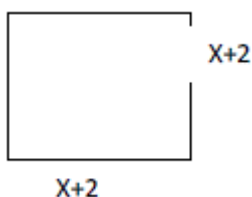
30. Observe a figura.



As retas da figura representam graficamente um sistema de duas equações do 1º grau com duas incógnitas, cuja solução pode ser representada pelo ponto

- P.
- R.
- S.
- Y.
- Q.

31. A área do seguinte quadrado é 49 cm^2 .



O valor de X, em cm, é

- 3.
- 6.
- 5.
- 9.
- 11.

32. A base de uma pirâmide é um triângulo equilátero de lado $L = 6 \text{ cm}$ e arestas laterais das faces $A = 4 \text{ cm}$. Calcule a altura da pirâmide em cm.

- 1.
- 2.
- 3.
- 4.
- 5.

33. Observe a charge:



A charge denuncia o(a)

- morte da ética em Brasília.
- sepultamento da ética no Planalto.
- falta de ética dos representantes do povo.
- ausência de ética nas deliberações do Congresso.
- morte do principal princípio de governo.

34. Na página, Sorriso Pensante por Ivan Cabral, um leitor registrou:

Sr. Ivan Cabral,

sou professor de Sociologia em Escola Pública do D.F. e peço autorização para utilizar sua charge em atividade de sala de aula.

A atitude do leitor

- demonstra simpatia pelo trabalho criativo do autor.
- é pedagógica por aplicar charge em atividade discente.
- coloca em dúvida sua atuação como professor, por solicitar produção alheia.
- compromete o conteúdo da Sociologia por não estar relacionado à charges.
- apresenta um comportamento ético em relação à autoria da charge.

Leia a notícia a seguir para responder às questões 35 e 36.

A ecologia integral do Papa Francisco

Correm rumores de que a ecologia integral é o tema central da encíclica sobre a ecologia e o clima do **Papa Francisco**, a ser publicada nos próximos meses. A Igreja aconselhará o seu 1,2 bilhão de membros sobre questões morais prementes. A eminente encíclica já gerou um considerável impacto na mídia, grande parte do qual pode ser seguido no sítio eletrônico do **Fórum Yale sobre Religião e Ecologia**.

<http://ihu.unisinos.br/noticias/543131-a-ecologia-integral-do-papa-francisco>

35. O "integral" no termo ecologia integral é a novidade. Nessa abordagem podemos esperar que o Papa refira-se em prioridade sobre a(s)

- bondade de Deus ao criar a natureza para o homem.
- responsabilidade de todos na proteção do Planeta.
- questões de igualdade e justiça social.
- desigualdade econômica extrema.
- competição desenfreada pelo recurso.

36. Encíclica, linhas 2 e 5, é

- o nível mais alto e o mais abrangente de ensinamento da Igreja Católica.
- o instrumento principal pelo qual a palavra do Papa se torna lei.
- a intenção de trabalho do cristão, ditada pelo Papa.
- o mandamento da era moderna para os cristãos.
- um pronunciamento do Papa que orienta cardeais e bispos.

Leia o Texto III, para responder à questão 37.

TEXTO III

Imigração no Brasil: Ilegais provocam crise humanitária no Acre

19/04/2013 08h03

Vivendo em condições precárias, imigrantes haitianos aguardam visto provisório em Brasília no estado do Acre.

O Brasil sempre foi conhecido por ser um país aberto aos demais povos, não impondo restrições em suas fronteiras. Nos últimos anos, porém, o crescimento da economia, em meio à crise financeira que atingiu a Europa e os Estados Unidos, tornou o país atrativo para uma massa de imigrantes vindos de países pobres.

"É como se estivesse formada uma rota internacional migratória que se associa à crise social grave que vive o povo do Haiti e a Polícia Federal tem tratado essa questão com bastante cuidado", diz Tião Viana.

A questão é que muitos Estados, principalmente da região Norte, não possuem estrutura de apoio para receber esses imigrantes, a maioria ilegais. E a política da nação acolhedora acaba gerando uma crise social.

<http://vestibular.uol.com.br/resumo-das-disciplinas/atualidades/imigracao-no-brasil-ilegais-provocam-crise-humanitaria-no-acre.htm>

37. Considerando o Texto III, analise as afirmações a seguir.

- I. A situação é mais grave onde cerca de 1,3 mil refugiados vivem em condições precárias, em abrigos improvisados, sem assistência médica ou alimentação adequada.
- II. O fluxo de estrangeiros aumentou no último mês e levou o governador do Acre, Tião Viana, a decretar situação de emergência humanitária no Estado.
- III. A rota migratória começou em 2010, quando um terremoto devastou o Nepal, matando cerca de 200 mil habitantes.
- IV. Após a tragédia, muitos habitantes do Nepal deixaram a ilha e vieram para o Brasil em busca de emprego, aqui eles recebem um "visto humanitário"
- V. A rota aberta pelos haitianos também atraiu imigrantes de outras nacionalidades, como senegaleses, nigerianos, dominicanos e indianos.
- VI. No caso de estrangeiros vindos de países africanos em guerra, a documentação é diferente, a condição é de refugiados.

Marque a opção que apresenta as afirmativas CORRETAS.

- a) I – III – V – VI
- b) III – IV – V – VI
- c) I – II – III – IV
- d) I – II – V – VI
- e) II – III – IV – VI.

38. Leia a notícia:

Quando lembramos dos atletas olímpicos, logo vem à mente a referência da perseverança, disciplina, dedicação e força de vontade. Conquistas que seguem como exemplo para todo o mundo. Estar em contato, sintonia e respeito com o meio ambiente também faz parte dos bons exemplos a serem seguidos pelos estudantes dos Jogos Escolares da Juventude 2015 que estiveram, na manhã desta sexta-feira (4/9), em visita ao Parque Ecológico do Cocó, em Fortaleza.

<http://www.ceara.gov.br/component/content/article/13955/13955>.

Os referidos atletas estiveram no Ceará para participar do(da)s

- a) Fórum Pró-Olimpíadas 2016.
- b) treinos de diversas modalidades classificatórias.
- c) disputas de atletismo a nível nacional.
- d) competições internacionais de *badminton*.
- e) Jogos Escolares da Juventude.

39. São Benedito tem muitos filhos ilustres que se destacaram em várias áreas do conhecimento, além de exercerem funções na política, na educação e na cultura. Um deles foi filósofo e escritor, catedrático do Colégio Pedro II no Rio de Janeiro, formado como bacharel em direito, possui monumento em sua homenagem, dentre outras ações. Essa é parte da biografia de

- a) Adolfo Correia de Araujo.
- b) Raimundo de Farias Brito.
- c) Claudio de Sá do Amaral.
- d) Mons. Tibúrcio Alves.
- e) Luiz Gonzaga Pinto de Araujo.

40. A bandeira de São Benedito tem por lema "*Virtus et Labor*" que significa

- a) Vitória e Liberdade.
- b) Virtude e Trabalho.
- c) Vitória e Lealdade.
- d) Virtude e Liberdade.
- e) Valentia e Trabalho.

CONHECIMENTOS ESPECÍFICOS

41. Para que a cárie dental possa progredir na dentina, é necessário que o(a)

- a) dentina, obrigatoriamente, contenha colágeno em sua forma solúvel.
- b) esmalte, obrigatoriamente, contenha glicoproteínas.
- c) dieta seja rica em carboidratos simples.
- d) dieta seja rica em polissacarídeos.
- e) polpa contenha enzimas proteolíticas.

42. A fusão é uma anomalia de desenvolvimento dos dentes caracterizada pela

- a) união de dois dentes pela coroa e raiz. Radiograficamente, observa-se a presença de duas raízes.
- b) presença de duas coroas separadas total ou parcialmente e uma única raiz.
- c) união de dois dentes pelo cimento radicular.
- d) curvatura proeminente da coroa ou da raiz dental.
- e) presença de uma câmara pulpar bem proeminente e raízes curtas.

43. Após uma tomada radiográfica, o dentista percebe que a radiografia está muito escura. Isso pode ter ocorrido devido à(ao)

- a) pouco tempo na solução reveladora.
- b) solução reveladora muito quente.
- c) solução reveladora muito fria.
- d) tempo de exposição muito curto.
- e) pouco tempo na solução fixadora.

44. O flúor é um agente bastante eficiente na redução da progressão da cárie, sendo, portanto, importante a sua presença constante na cavidade bucal. Sobre o flúor, marque a opção INCORRETA.

- a) A eficácia do flúor é atribuída à sua capacidade de se incorporar dentro da placa bacteriana.
- b) Em uma concentração muito alta, os íons fluoreto apresentam um efeito antimicrobiano.
- c) Creme dental contendo flúor e outras formas tóxicas de flúor devem ser evitados ou usados com cuidado em crianças menores de 6 anos de idade para minimizarem a ingestão de flúor.
- d) O flúor incorporado ao esmalte dental e não o flúor presente no fluido da placa dental influencia o processo de desmineralização e remineralização dental.
- e) O consumo de sacarose reduz o pH do meio bucal, levando a perda mineral no esmalte, porém, a saliva, pela presença de flúor e capacidade tampão, promove a reposição dos minerais perdidos.

45. O espaço biológico pertence às estruturas de suporte dentário, sendo definido como

- a) um espaço que mede em média 4mm do sulco gengival.
- b) a medida entre o ápice dental e o sulco gengival.
- c) o espaço que devemos evitar na colocação de restaurações subgengivais, tendo em média 4mm.
- d) inserção do dente no ligamento periodontal.
- e) a distância compreendida pelo sulco gengival, epitélio juncional e a inserção conjuntiva, tendo em média 3mm.

46. A síncope é uma emergência odontológica comum, caracterizada pela perda súbita e transitória da consciência e, conseqüentemente, da postura. No caso de um episódio de síncope no consultório odontológico, marque a opção CORRETA quanto ao manejo do paciente.

- a) Continuar com o tratamento, já que é uma condição transitória.
- b) Dar glicose.
- c) Dar oxigênio.
- d) Deitá-lo numa posição horizontal e levantar levemente as pernas do mesmo.
- e) Colocar compressa morna na testa.

47. Sobre nevralgia do nervo trigêmeo, assinale a alternativa INCORRETA.

- a) A dor causada é rápida, curta e muito severa.
- b) A dor, geralmente, localiza-se em um dos lados da face.
- c) A dor é, com frequência, comparada a um choque elétrico.
- d) Simples atos rotineiros podem servir como estímulo para causar a dor como, por exemplo, tocar na face, falar, escovar os dentes ou mastigar.
- e) A dor sempre acorda o paciente à noite, tornando o sono um período de desconforto, ao invés de um período de alívio.

48. Paciente de 32 anos de idade apresenta-se no consultório odontológico, queixando-se da presença de projeções semelhantes a dedos na borda lateral da língua. A lesão é indolor e de coloração normal. O diagnóstico mais provável é

- a) papiloma.
- b) grânulos de Fordyce.
- c) neurofibroma.
- d) condiloma acuminado.
- e) verruga vulgar.

49. Com relação à sífilis, marque a opção INCORRETA.

- a) É uma doença sexualmente transmissível e pode ser curável.
- b) É causada pelo *Treponema Pallidum* que se dissemina rapidamente pelo corpo.
- c) As sífilis primária e secundária não são contagiosas, ao contrário da sífilis terciária que é altamente contagiosa.
- d) A sífilis primária caracteriza-se pela presença do cancro que aparece no ponto de contato.
- e) Na sífilis terciária, podem ocorrer complicações neurológicas e cardiovasculares.

50. A respeito dos exames de campo escuro e VDRL, os mesmos são indicados para diagnosticarem

- a) rubéola.
- b) tuberculose.
- c) actinomicose.
- d) sífilis.
- e) caxumba.

51. O mecanismo de ação dos anestésicos locais consiste na inativação da/dos

- a) bomba de sódio.
- b) canais de sódio.
- c) canais de potássio.
- d) bomba de potássio.
- e) canais de ferro.

52. Paciente apresenta-se no consultório odontológico três dias após a exodontia do segundo molar inferior direito, relata dor, mau gosto na boca e odor fétido no local, que está muito sensível. No exame clínico, nota-se a presença de exposição do osso. O provável diagnóstico é

- a) osteomielite.
- b) osteosarcoma.
- c) fratura óssea.
- d) osteíte.
- e) infecção.

53. Problemas na articulação temporomandibular (ATM) são frequentes na prática odontológica. Sobre ATM, marque a opção INCORRETA.

- a) Mais comum em adultos jovens, mas pode ocorrer em crianças assim como em idosos.
- b) Trauma direto e indireto, hábitos parafuncionais e fatores psicológicos são considerados fatores de risco.
- c) A literatura não comprova que maloclusão seja um fator de risco para problemas na ATM.
- d) Sons isolados na ATM são indicações para tratamento, independente da presença de dor ou disfunção.
- e) Pacientes com problema na ATM, frequentemente, relatam trismo, sons articulares, dor no ouvido e nos músculos mastigatórios, dor de cabeça e dor na região do pescoço.

54. Com relação ao Código de Ética Odontológico, marque a opção CORRETA.

- a) Resguardar a privacidade do paciente, apenas, quando do seu pedido.
- b) Atestar os atos executados no exercício profissional quando solicitado pelo paciente ou por seu representante legal.
- c) Exercer a profissão em âmbito público ou privado em que as condições de trabalho não sejam dignas, seguras e salubres.
- d) A Odontologia, como profissão, deve ser exercida em benefício da saúde do ser humano, da coletividade e do meio ambiente com discriminação sob os devidos pretextos.
- e) O Código de Ética Odontológico regula os direitos e deveres do cirurgião-dentista, dos profissionais técnicos e auxiliares e de pessoas jurídicas que exerçam atividades na área da Odontologia, em âmbito público e/ou privado, com facultativa inscrição nos Conselhos de Odontologia, segundo suas atribuições específicas.

55. Em consonância com o Pacto de Defesa da Vida, a Política Nacional de Promoção da Saúde, aprovada pela portaria número 687/GM, de 30/03/2006, propõe várias intervenções e ações de saúde, estabelecendo ainda como diretrizes

- a) fortalecer a participação social, entendendo-se como fundamental na consecução de resultados de promoção de saúde, em especial a equidade e o empoderamento individual e comunitário.
- b) não informar e não divulgar as iniciativas voltadas para a promoção de saúde aos profissionais de saúde, gestores e usuários do SUS.
- c) não incentivo à pesquisa em promoção à saúde para avaliar a eficiência, a efetividade e a segurança das ações prestadas.
- d) não estimular as ações intersetoriais para aquisição de parcerias para o desenvolvimento integral das ações de promoção da saúde.
- e) discriminação do ser humano com meio de empoderamento da política de promoção de saúde.

56. Os materiais de moldagem chamados hidrocoloides irreversíveis são, também, conhecidos como

- a) sílica de adição.
- b) alginatos.
- c) sílica de condensação.
- d) polissulfetos.
- e) poliéter.

57. São considerados os principais fatores etiológicos do câncer de boca

- a) exposição ao sol e má alimentação.
- b) álcool e má alimentação.
- c) fumo e álcool.
- d) refrigerante e exposição ao sol.
- e) fumo e exposição ao sol.

58. A eliminação ou a destruição completa de todas as formas de vida microbiana, sendo executada através de processos físicos ou químicos, pode ser definida como

- a) descontaminação.
- b) degermação.
- c) antisepsia.
- d) desinfecção.
- e) esterilização.

59. Sobre o SUS, marque (V) para as afirmativas VERDADEIRAS e (F) para as FALSAS.

() Segundo o princípio da **equidade**, a saúde é um direito de todos, sendo providas ações e serviços pelo Poder Público, ofertando saúde a todos que dela necessitam.

() Reduzir as disparidades sociais e regionais do nosso país, buscando um maior equilíbrio entre elas, é uma necessidade regida pelo princípio da **universalidade**.

() Por causa da **integralidade**, estruturam-se redes de maneira hierarquizada.

() Uma política adotada, para garantir o princípio da **equidade**, é a incorporação tecnológica e o investimento estratégico e prioritário no combate de situações agudas ou extremas.

Marque a opção que apresenta a sequência CORRETA.

- a) V – V – V – V
- b) F – F – V – V
- c) V – V – F – F
- d) F – F – V – F
- e) F – F – F – V.

60. Sobre o SUS, analise as assertivas a seguir.

- I. A saúde é entendida como o resultado de políticas econômicas e sociais, um direito de todos e um dever do Estado.
- II. As demandas do movimento sanitário foram transpostas para o SUS que se organizou pelos princípios da descentralização, do atendimento integral e da participação da comunidade.
- III. Associando-se à democracia, o princípio da descentralização ampliou os direitos sociais da cidadania e se estendeu também às competências e receitas tributárias, descentralizando-a, com opção preferencial pela municipalização.
- IV. O Pacto pela Vida, o Pacto em Defesa do SUS e o Pacto de Gestão são os três componentes que constituem o Pacto pela Saúde, um movimento de mudança consolidado pelo SUS que possibilita a efetivação de acordos entre as três esferas de gestão para a reforma de aspectos institucionais vigentes.

Marque a opção que apresenta as afirmativas CORRETAS.

- a) I – II – III
- b) III – IV
- c) II – III
- d) I – II – III – IV
- e) II – IV.